



T.C.  
MİLLÎ EĞİTİM BAKANLIĞI  
ÖLÇME, DEĞERLENDİRME VE SINAV HİZMETLERİ GENEL MÜDÜRLÜĞÜ

2019 - 2020 ÖĞRETİM YILI  
Sınavla Öğrenci Alacak Ortaöğretim Kurumlarına  
İlişkin Merkezî Sınav Yönelik  
Ocak Ayı Örnek Soruları  
(SÖZEL BÖLÜM)

- Bu kitapçıkta sözel bölüme ait örnek sorular bulunmaktadır.
  - Türkçe : 10 soru
  - T. C. İnkılap Tarihi ve Atatürkçülük : 5 soru
  - Din Kültürü ve Ahlak Bilgisi : 5 soru
  - İngilizce : 5 soru



## Türkçe Örnek Soruları

1. “Kitap nasıl okunmalı?” sorusunu kendime göre cevaplasam bile söylediklerim, yalnızca benim için geçerli olacaktır. Herkes kendi kararını kendi vermeli. Birilerinin; neyi, nasıl okuyacağımızı; okuduklarımızı nasıl değerlendireceğimizi söylemesine izin vermek çıkış kapılarımıza kilit vurmaktır.

**Bu parçadaki altı çizili ifadenin yerine aşağıdakilerden hangisi getirilebilir?**

- A) özgürlüklerimize      B) yeteneklerimize      C) birikimlerimize      D) gayretlerimize

2. Sözcüklerin, anlamlarına uygun olmayan bir şekilde cümlede kullanılması anlatım bozukluğuna yol açmaktadır. Türk Dil Kurumu, bu yanlışlardan kaçınmak isteyenlere yardımcı olmak amacıyla birbiriyle sıkça karıştırılan bazı sözcüklerin anlamını şöyle vermiştir:

Yakın: Az bir ara ile ayrılmış olan (zaman veya yer).

Yaklaşık: Gerçek değeri ve miktarı değil, ondan biraz fazla veya eksik bir niceliği gösteren, aşağı yukarı bir değerlendirme yapılarak bulunan.

Maiyet: Üst görevlinin yanında bulunan kimseler, alt kademedekiler.

Mahiyet: İçyüz.

Tabii: Olağan, alışılmış, her zamanki gibi olan, beklendiği gibi.

Tabi: Bağımlı.

Teamül: Bir yerde öteden beri olagelen davranış.

Temayül: Bir tarafa eğilme, meyletme.

**Buna göre aşağıdaki cümlelerin hangisinde bir anlatım bozukluğu vardır?**

- A) Bu işin mahiyetini en kısa zamanda öğrenmeliyiz.  
B) Teyze çocuklarımı üç güne yakındır görmüyorum.  
C) Büyüklelerin elini öpme teamülü kültürümüzde bir saygı ifadesidir.  
D) Sosyalleşmek insan ruhu için tabii bir ihtiyaçtır.

3. Hepimiz hayatımız boyunca iki veya daha fazla seçenek arasından birini yeğleriz. Hatta bazen sunulanların hiçbirinden hoşlanmasak da sırf içimizdeki dayanılmaz çelişkiden sıyrılmak için alternatiflerden birini seçeriz. Seçmediğimiz “diğeri”ni, ne olacağını hiç bilemeyeceğimiz bir konuma getiririz. Başka bir deyişle bizim için güzel veya kötü olacak o olasılığı yitiririz.

**Bu parçada anlatılanları en iyi ifade eden söz aşağıdakilerden hangisidir?**

- A) Deneyim en acımasız öğretmendir.  
B) Unutmayın ki bir seçim yaparken seçmemek de seçilebilir.  
C) Deneyen kaybedebilir ama denemeyen zaten kaybetmiştir.  
D) Tercihler, insanın bazı şeylerden vazgeçmesini gerekli kılar.

4. 2012-2016 yılları arasında iki ayrı ülkeye gelen yabancı ziyaretçilerin konaklama türleri incelendiğinde şu sonuçlara ulaşılmıştır:

- I. ülkede, tatil köylerini tercih eden ziyaretçi sayısında yıllar itibarıyla keskin bir düşüş gözlenmezken II. ülkede durum inişli çıkışlı seyretmiştir.
- I. ülkede pansiyonlarda kalan ziyaretçi sayısının yıllar içinde düşüş gösterdiği, II. ülkede ise arttığı tespit edilmiştir.
- Otellerin iki ülkede de her yıl diğer konaklama türlerine göre daha çok tercih edildiği görülmüştür.

Buna göre söz konusu yıllar arasında her iki ülkeye yurt dışından gelen ziyaretçilerin konaklama türlerini doğru gösteren grafikler aşağıdakilerin hangisinde verilmiştir?



5. Lebdeğmez (dudakdeğmez), genellikle Türk halk şiirinde yaygın olan ve içinde her iki dudağın birbirine veya alt dudağın üst dişlere dokunmasıyla ortaya çıkan seslerin kullanılmadığı şiir türüdür.

**Bu bilgilere göre aşağıdaki dizelerden hangisi "lebdeğmez" örneğidir?**

A) Dinle sana bir nasihat edeyim  
Hatırdan, gönülden geçici olma  
Yiğidin başına bir iş gelince  
Anı yad ellere açıcı olma

B) Ağacınız yapraklarla donanır  
Taşlarınız bir birliğe inanır  
Hep çiçekler bağrınızda gönenir  
Pınarınız çağlar, akışır dağlar

C) Dikkat et araştır gözlerini aç  
Sanat her yiğidin kârı değildir  
Eser yazarının serindeki taş  
Altındandır, soğan zarı değildir

D) Bir bağa ki rüzgâr terse vurursa  
Dökülür gazeli soldu diyeler  
Bir güzelin bahtı kara yazılsa  
Toplanıp da hayıf oldu diyeler



6. İlhan Berk yaptığı resimleri, üstünde "60 bin" yazılı koca bir zarftan tek tek çıkararak döşemeye serdi. Bir süre gülümseyerek baktı otuz resme de. Ferit Edgü ve bana düşüncelerimizi sordu. Ressamların bayıldığı huyları vardır: Yaptıklarını gösterirken eserlerini överler, o arada onların reklamını da yaparlar. İlhan Berk de resim yapmaya başladı. Ona da mı geçmiş bu huy? Değil. Çünkü o, şiirlerini ortaya koyarken de öteden beri böyle yapar. Oysa şairler genellikle utanırlar şiirlerini gösterirken. Bir alçak gönüllülük tavrı benimserler.

**Bu parçada aşağıdakilerden hangisi yoktur?**

- A) Tespit                      B) Karşılaştırma                      C) Betimleme                      D) Öneri

7. Alan Turing, henüz 16 yaşındayken Einstein ve Newton'ın kuramlarının karşılaştırmasını özgün bir şekilde yazmıştır. Daha sonra ise matematiğin efsane isimlerinden Kurt Gödel'in geliştirmiş olduğu formülleri yeniden düzenleyerek yazdığı "Hesaplanabilir Sayılar" adlı makalesi ile matematik dünyasının unutulmaz isimlerinden biri olmuştur. Kendisinin en önemli özelliği, sayılar arasındaki ilişki olarak adlandırılan örüntüler konusunda üstün becerilere sahip olmasıdır. Turing, hayvanların beneklerinde bir örüntü olduğunu düşünerek bilim dünyasında fırtınalar koparmıştır.

**Bu parçadan Alan Turing ile ilgili aşağıdakilerden hangisi çıkarılamaz?**

- A) Kabul görmüş bilimsel yargıları değiştirmiştir.  
B) Doğa ile matematik arasında ilişki kurmuştur.  
C) Genç yaşta bilimsel bir çalışma ortaya koymuştur.  
D) Ünlü matematikçiler arasında yer almıştır.

8. İnsanların deneyimledikleri farklı durumlar karşısında sabit bir algısı olduğunu düşünmek hatadır. Çünkü insanların algılarını çeşitli yollarla etkilemek mümkündür. Bu etkileme yollarının başında ise karşılaşılan durumun kişiye sunulma biçimi gelmektedir.

**Aşağıdaki deneylerin hangisinde sunuş biçiminin, insan algısı üzerindeki etkisi örneklenmiştir?**

- A) Yetkililerin, metro istasyonlarında yolculara klasik müzik dinletmeleri durumunda onlardaki taşkınlık ve gürültü çıkarma, etrafa zarar verme gibi birçok olumsuz davranış türünün önemli ölçüde azalması  
B) Bir kalemin ortasından ısırılarak bir süre ağızda tutulması durumunda yüzde gülme kaslarının harekete geçmesi ve bu yapay gülümsemeden kaynaklı olumlu sinyallerin beyne ulaşması ile kişinin daha mutlu bir ruh hâline girmesi  
C) Araştırmacıların bir dolu bardak suyun yarısını boşalttıklarında durumu gözlemleyenlerin yüzde 69'unun, bardağı yarısı boş olarak değerlendirmesi buna karşılık boş bardağı yarısına kadar su ile doldurdıklarında gözlemcilerin yüzde 88'inin bardağı yarısı dolu olarak değerlendirmesi  
D) Buldukları ortama bırakılan şekerleri yarım saat boyunca yememeleri hâlinde kendilerine o şekerlerin yanında başka şekerler de verileceğinin söylendiği çocuklardan, verilen süre içinde kendini kontrol edip şeker dokunmayanların şekerleri yiyenlere göre yıllar sonra daha mutlu ve başarılı bir yaşam sürdürdüklerinin belirlenmesi

9. Ayşe, Büşra, Cenk, Davut, Ece ve Ferhat bir sürücü kursundaki K, L ve M sınıflarına kaydolmuşlardır. Bu kişilerin sınıflarıyla ilgili şunlar bilinmektedir:

- Ece ve Cenk aynı sınıftadır.
- Büşra'nın sınıfına kendisi dışında bir kişi daha kaydolmuştur.
- M sınıfına kaydolan bir kişi vardır ve bu kişi Ayşe değildir.
- Davut üç kişilik bir sınıftadır.

**Bu bilgilere göre aşağıdakilerden hangisi Büşra ile aynı sınıftadır?**

- A) Davut                      B) Ayşe                      C) Ferhat                      D) Ece



10. Cümlede yüklem bildirdiği işi yapan veya o durumda bulunan ögeye "özne" denir.

**Buna göre aşağıdaki cümlelerin hangisinde özne yanlış gösterilmiştir?**

A) Çocukluk tüm insanların gizli hazinesidir.

Özne

B) Son yıllarda hızla gelişen teknoloji kimi riskleri beraberinde getiriyor.

Özne

C) Hayatımızın en önemli gününü bir şölene çevirmek en büyük hayalimizdir.

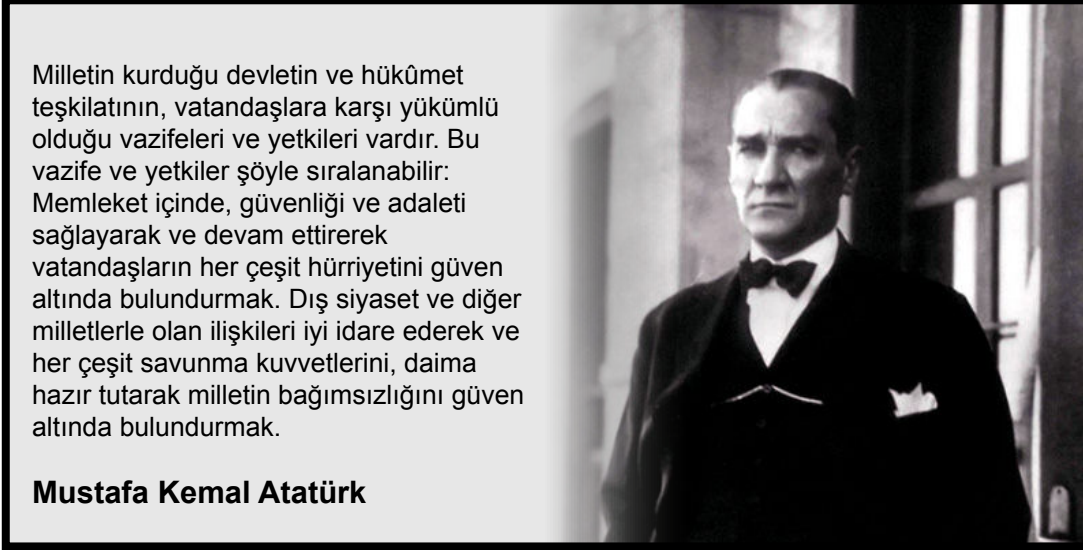
Özne

D) Çiçek dikiminde görevlendirilmek üzere işçiler alınacaktır.

Özne

## T.C. İnkılap Tarihi ve Atatürkçülük Örnek Soruları

1.



Milletin kurduğu devletin ve hükümet teşkilatının, vatandaşlara karşı yükümlü olduğu vazifeleri ve yetkileri vardır. Bu vazife ve yetkiler şöyle sıralanabilir: Memleket içinde, güvenliği ve adaleti sağlayarak ve devam ettirerek vatandaşların her çeşit hürriyetini güven altında bulundurmaktır. Dış siyaset ve diğer milletlerle olan ilişkileri iyi idare ederek ve her çeşit savunma kuvvetlerini, daima hazır tutarak milletin bağımsızlığını güven altında bulundurmaktır.

**Mustafa Kemal Atatürk**

Atatürk'ün sözlerinden hareketle devletin görev ve sorumlulukları içerisinde,

- I. Kişi hak ve özgürlüklerini güvence altına almak
- II. Halkı iç ve dış tehditlere karşı korumak
- III. Bağımsızlığın devamı için mücadele etmek

**hedeflerinden hangileri yer alır?**

- A) I ve II.                      B) I ve III.                      C) II ve III.                      D) I, II ve III.

2. Atatürk'ün inkılap anlayışı; çağdaş uygarlığa ulaşma çabasıyla yapılan yeniliklere sahip çıkılmasını, bunların korunmasını ve yeni ihtiyaçlar doğrultusunda geliştirilmesini öngörür. Atatürk'ün anlayışına göre inkılap, bir noktaya varıp orada durmaz, süreklidir. Yaşam şartlarına ve çağın ihtiyaçlarına uygun biçimde gelişmeye açıktır.

**Buna göre Atatürk'ün,**

- I. "Vatan artık bayındır hâle getirilmek istiyor, zenginlik ve refah istiyor. İlim ve bilgi, yüksek medeniyet, hür fikir ve hür zihniyet istiyor! Bağımsızlık ve öz varlık, vatanın bu isteklerini tam olarak ve hızla yerine getirmek için esaslı ve ciddi bir şekilde çalışma emreder."
- II. "Din ve mezhep, herkesin vicdanına kalmış bir iştir. Hiç kimse hiç bir kimseyi, ne bir din ne de bir mezhebi kabul etmeye zorlayabilir."
- III. "Bizim milletimiz birbirinden çok farklı menfaatleri takip eden ve bu itibarla birbiriyle mücadele hâlinde bulunagelen çeşitli sınıflara sahip değildir."

**sözlerinden hangileri inkılapçılık ilkesiyle ilişkilidir?**

- A) Yalnız I.                      B) I ve II.                      C) II ve III.                      D) I, II ve III.



3. Misak-ı İktisadi esaslarından bazıları şunlardır:

- Türk milleti tahribat yapmaz, imar eder. Bütün mesai, ekonomik yönden ülkeyi yükseltmek gayesine yönelmiştir.
- Türk vatandaşları kullandığı eşyayı mümkün mertebe kendi üretir. Çok çalışır, vakitte, servette ve ithalatta israfa kaçınır.
- Türkler hangi meslekte olursa olsun birbirlerini candan severler. Meslekler, zümre itibarı ile el ele vererek birlikler oluşturur.

**Buna göre aşağıdakilerden hangisi Misak-ı İktisadi esaslarının amaçlarından biri değildir?**

- A) Tasarruf bilincini geliştirmek
- B) Kalkınmayı ithalat ile arttırmak
- C) Millî üretime katkıda bulunmak
- D) Meslek grupları arasında dayanışmayı sağlamak

4. Halkçılık, bireyler arasında hiçbir ayırım gözetmemek, kişilerin yasalar önünde eşitliğini benimsemek ve egemenliğin halka ait olduğunu kabul etmektir.

**Buna göre halkçılık ilkesinin toplumda,**

- I. Yönetime katılma
- II. Hiçbir kişi ya da gruba ayrıcalık tanınamama
- III. Devlet imkânlarından eşit olarak faydalanabilme

**hedeflerinden hangilerini gerçekleştirilmeye yönelik olduğu söylenebilir?**

- A) I ve II.
- B) I ve III.
- C) II ve III.
- D) I, II ve III.

5. Türkiye, Lozan Konferansı'nda birtakım isteklerde bulunmuştur. Bu istekler şunlardır:

- Kapitülasyonlar ve Düyun-u Umumiye İdaresinin kaldırılması
- İstanbul'un ve Boğazların boşaltılması
- Musul ve Kerkük'ün Türkiye'ye bağlanması
- Yunanistan'ın tazminat ödemesi

**Türkiye'nin bu isteklerle aşağıdakilerden hangisini amaçladığı söylenemez?**

- A) Savaşın neden olduğu ekonomik zararı telafi etmeyi
- B) Ekonomik bağımlılığının ortadan kaldırılmasını
- C) Toprak bütünlüğünün sağlanmasını
- D) Mevcut sınırlarını genişletmeyi

## Din Kültürü ve Ahlak Bilgisi Örnek Soruları

1.

**öncelik yayanın  
öncelik hayatın**

2918 sayılı Karayolları Trafik Kanunu'nun 74'üncü maddesinde 26 Ekim 2018 tarihinde yapılan değişiklik; "Sürücüler, görevli bir kişi veya ışıklı trafik işareti bulunmayan ancak trafik işareti veya levhaları ile belirlenmiş kavşak giriş ve çıkışları ile yaya ve okul geçitlerine yaklaşırken yavaşlamak, varsa buralardan geçen veya geçmek üzere bulunan yayalara durarak ilk geçiş hakkını vermek zorundadırlar." hükmü getirildi.

BU YOLDA BİRLİKTEYİZ

Bu afişte sözü edilen uygulama İslam dininin, korunmasına önem verdiği temel haklardan hangisiyle doğrudan ilgilidir?

- A) Mal B) Akıl C) Can D) Din

2. "Andolsun zamana ki insan gerçekten ziyan içindedir. Ancak iman edip de salih ameller işleyenler, birbirlerine hakkı tavsiye edenler, birbirlerine sabrı tavsiye edenler başka. (Onlar ziyanda değillerdir.)"

(Asr suresi)

Bu sureden,

- I. Kötülüklerden Allah'a sığınılmalıdır.
- II. İnanma ihtiyacı insanda doğuştan vardır.
- III. İnsanların başkalarına karşı sorumlulukları vardır.
- IV. İnsan zamanını iyi şeyler yaparak değerlendirmelidir.

yargılarından hangilerine ulaşılabilir?

- A) I ve II. B) I ve III. C) II ve IV. D) III ve IV.

3. İslam dini, sadece Allah'a kulluk etmeyi, ona güvenmeyi ve yalnız ondan yardım dilemeyi emreder. Türbe ve yatırlardan medet ummak, dileğin kabulü için ağaçlara bez bağlamak gibi akla ve mantığa uymayan, insanları dinin özünden uzaklaştıran yanlış anlayış ve inanışlardan uzak durulmasını ve dinin yalnızca Allah'a tahsis edilerek ibadet edilmesini öğütler. Bu durum Kur'an-ı Kerim'de şu şekilde ifade edilmiştir: - - - -

**Metindeki boşluğa anlam akışına göre aşağıdaki ayetlerden hangisi getirilmelidir?**

- A) "De ki: 'Rabb'im adaletle davranmayı emretti.'..."  
(Âraf suresi, 29. ayet)
- B) "... O hâlde sen de dini Allah'a has kılarak (ihlâs ile) kulluk et."  
(Zümer suresi, 2. ayet)
- C) "Ey iman edenler, mallarınızı, sizden karşılıklı anlaşmadan (doğan) bir ticaretten başka haksız 'nedenler ve yollarla' (batılca) yemeyin."  
(Nisâ suresi, 29. ayet)
- D) Eğer Allah'ın dünyada ve ahirette sizin üzerinizde fazlı ve rahmeti olmasaydı içine daldığınız dedikodudan dolayı size büyük bir azap dokunurdu.  
(Nûr suresi, 14. ayet)
4. Bir hükümdar, arkadaşlarıyla birlikte gezmeye çıkmıştı. Yolu üzerindeki bir köyde çok yaşlı bir adamın, tarlasına fidan dikmekle meşgul olduğunu gördü ve yanına gidip şöyle dedi:
- Baba, sen ne diye fidan dikmeye uğraşıyorsun? Maşallah yaşını yaşamışsın, bu diktiğin fidanların meyvesinden belki de yiyemeyeceksin!
- İhtiyar şöyle cevap verdi:
- Diktiğim fidanların meyvesini benim yemem şart değil, evlat! Biz nasıl bizden öncekilerin diktiği fidanların meyvesinden yiyorsak bizim diktiğimiz fidanların meyvesini de bizden sonrakiler yer.
- Bu metindeki yaşlı adamın davranışı, aşağıdaki kavramlardan hangisinin kapsamında değerlendirilir?**
- A) Sadaka-i cariye  
B) Fıtır sadakası  
C) Zekât  
D) Fidyе

5. Hz. Peygamber Veda Hutbesi'nde Müslümanlara hitaben şöyle buyurmuştur:

"Müminler! Sözümü iyi dinleyiniz ve iyi kavrayınız! Müslüman, Müslüman'ın kardeşidir ve böylece bütün Müslümanlar kardeşlerdir. Bir Müslüman'a kardeşinin canı da malı da helal olmaz. Fakat malını gönül hoşluğu ile vermişse o başkadır."

**Aşağıdakilerden hangisi Hz. Muhammed'in (sav.) bu sözü söylemekteki amaçlarından biri değildir?**

- A) Yaşam hakkı ihlallerini engellemek  
B) Kişilerin mülkiyet haklarını korumak  
C) Toplum huzurunu sağlamaya yönelik tedbirler almak  
D) Kardeşler arasındaki miras paylaşımının şartları açıklamak

## İngilizce Örnek Soruları

Read the text and answer the question.

1. Mary, Tom, Lisa and John met at a restaurant. They all ordered what they like most.



According to the information above, which of the following is NOT correct?

- A) Mary ordered pasta as a main course.
- B) Tom chose salad and meatballs.
- C) Lisa ate a slice of strawberry cake.
- D) John had both grilled chicken and ice cream.

Read the text and answer the question.

2. Jack wants to create a password for his account and reads the rules below.

### HOW TO CREATE STRONG PASSWORDS

- 🔒 Use at least ten characters.
- 🔒 Use a mixture of letters, numbers and punctuation.
- 🔒 Do not use ordered letters and numbers (e.g. abcde,12345).
- 🔒 Do not use personal information such as names, birth dates or phone numbers.

Which of the following is an appropriate password for Jack?

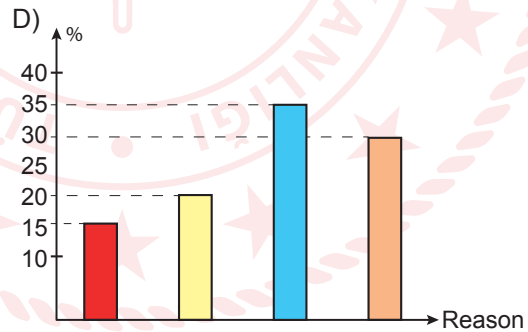
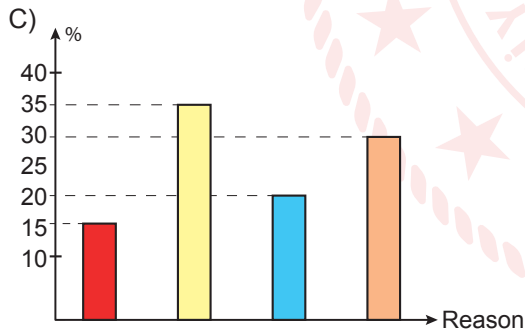
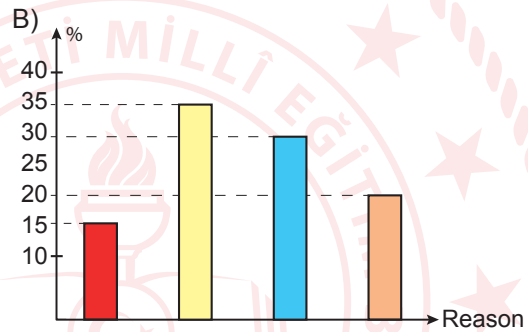
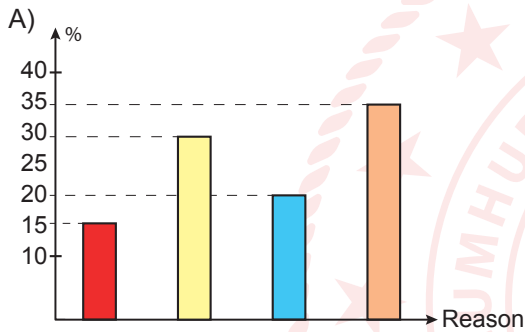
- A) 3.qa!iwf2m
- B) 2007jack\_7
- C) 123123abc+
- D) 5552660912

Read the text below and answer the question.

3. A research company asked 100 people about why they usually called customer services. Here are their answers:

- 35 people called to change an item they bought.
- 20 people called to make a reservation for transportation.
- 15 people called to learn something new.
- The rest of them called when their products didn't reach them on time.

Which of the following shows the results of the research?



Read the text and answer the question.

4.

#### RULES FOR USING SOCIAL MEDIA SAFELY

- ⚠ Do not believe any information without confirming it.
- ⚠ Use private settings to control your account.
- ⚠ Be sure that you want to post a photo/ video.
- ⚠ Do not talk about your private life.



Tom: In the evenings, I surf the Internet. When I see interesting news, I try to find out its source.

Sally: I am very careful before I post a photo or video online.

Chris: When I sign up to a social media site, I make sure that only my friends see what I post.

Emily: When I am online, I tell everybody my birthday, where I live and what I like.

Who does NOT follow the rules for using social media safely?

A) Tom

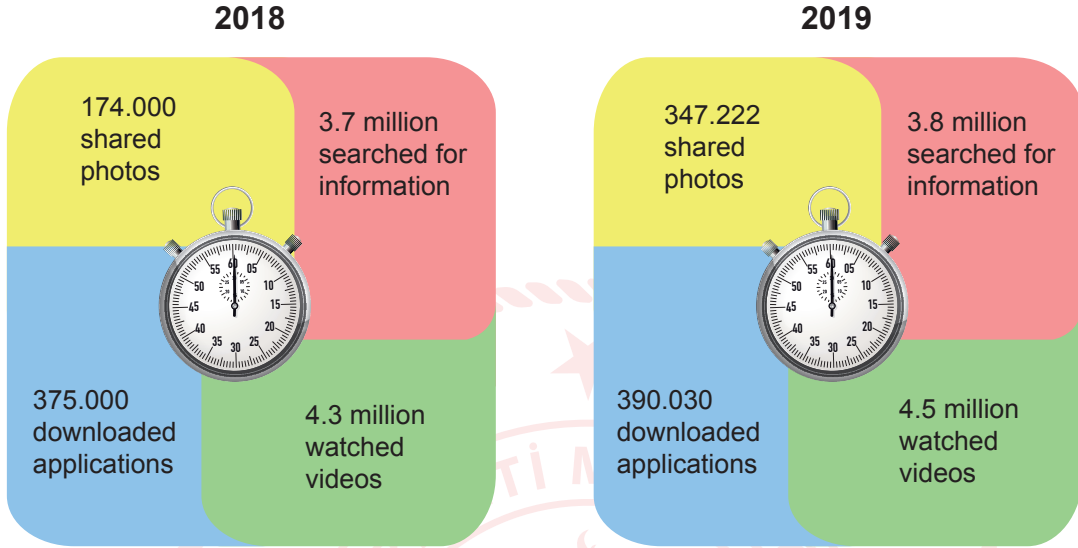
B) Sally

C) Chris

D) Emily

Read the text, look at the visuals and answer the question.

5. The visuals below show what kind of activities people did on the Net in a minute in 2018 and 2019.



According to the results above, which of the following is NOT correct?

- A) In 2018, people shared less photos than in 2019.
- B) More people watched videos on the Net in 2018 than in 2019.
- C) People downloaded more applications from the stores in 2019.
- D) About four million people used search engines both in 2018 and 2019.

## CEVAP ANAHTARI

### TÜRKÇE

1. A
2. B
3. D
4. D
5. C
6. D
7. A
8. C
9. B
10. C

### T.C. İNKILAP TARİHİ VE ATATÜRKÇÜLÜK

1. D
2. A
3. B
4. D
5. D

### DİN KÜLTÜRÜ VE AHLAK BİLGİSİ

1. C
2. D
3. B
4. A
5. D

### İNGİLİZCE

1. B
2. A
3. C
4. D
5. B