



T.C.
MİLLÎ EĞİTİM BAKANLIĞI
ÖLÇME, DEĞERLENDİRME VE SINAV HİZMETLERİ GENEL MÜDÜRLÜĞÜ

2019 - 2020 ÖĞRETİM YILI
Sınavla Öğrenci Alacak Ortaöğretim Kurumlarına
İlişkin Merkezî Sınav Yönelik
Ekim Ayı Örnek Soruları
(SÖZEL BÖLÜM)

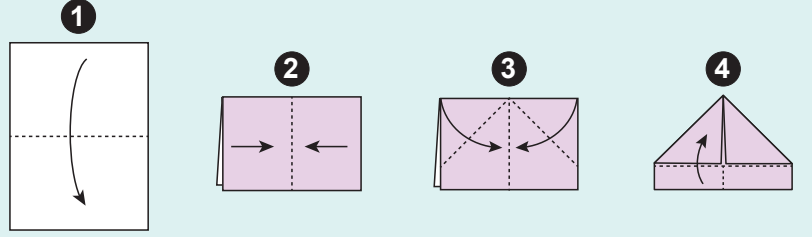
- Bu kitapçıkta sözel bölüme ait örnek sorular bulunmaktadır.
 - Türkçe : 10 soru
 - T. C. İnkılap Tarihi ve Atatürkçülük : 5 soru
 - Din Kültürü ve Ahlak Bilgisi : 5 soru
 - İngilizce : 5 soru



Türkçe Örnek Soruları

1. Aşağıda kâğıttan gemi yapımının ilk dört aşamasının anlatımı görselleriyle birlikte verilmiştir.

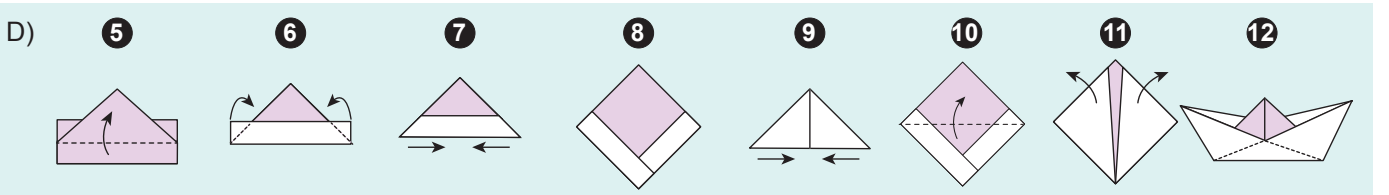
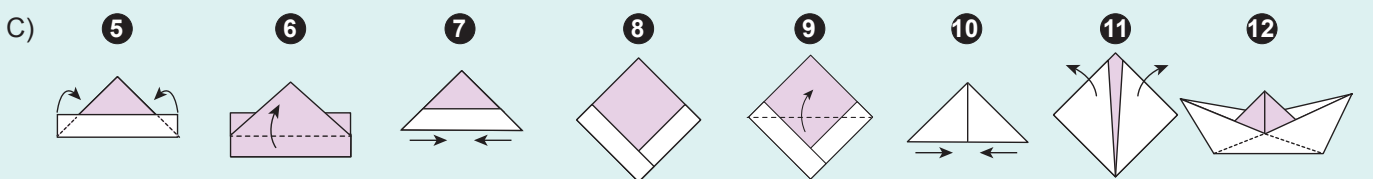
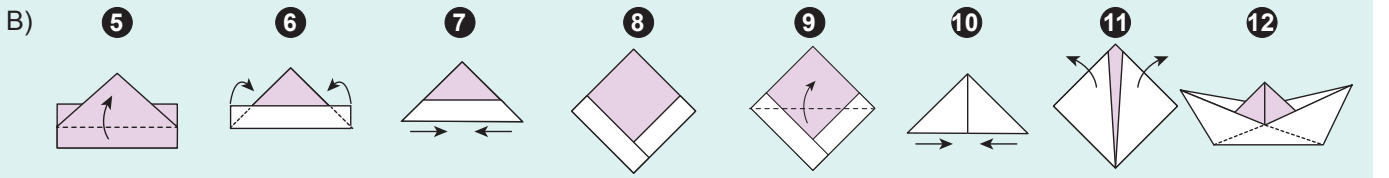
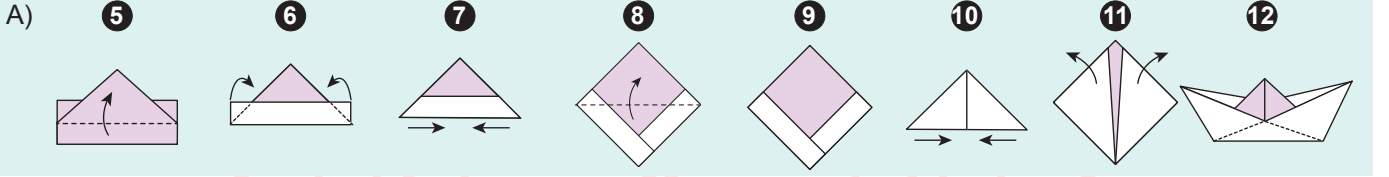
Ön yüzü beyaz, arka yüzü pembe olan dikdörtgen bir kâğıt ok yönünde katlanır. Oluşan şekil tekrar ikiye katlanır ve ortaya çıkan bu kat yeniden açılır. Ortada bir çizgi elde edilir. Üstteki iki köşe ortadaki çizgiye doğru katlanır. Üçgenin altında kalan şeritlerden öndeki, yukarı doğru katlanır.



Kalan aşamalar şu şekildedir:

Kâğıt ters çevrilip kâğıdın diğer şeridi de yukarı doğru katlanır. Daha sonra köşeleri arkaya doğru katlanır. Oluşan üçgenin alt köşeleri tutulup birbirine doğru itilir ve düz bir kare elde edilir. Üst kanat yukarı doğru katlanıp aynı şey diğer tarafta da tekrar edildikten sonra yine bir üçgen elde edilir. Bu üçgenin alt köşeleri tutulup içe doğru itilir. Üst köşeler tutulur ve birbirinden ayrılır. Böylece ortaya bir gemi çıkar.

Bu metindeki açıklamaları içeren görseller aşağıdakilerin hangisinde sırasıyla verilmiştir?



2. ULVİYE — Kızım, bugün Hüsrev'in odasına gazete götürdün mü?
HİZMETÇİ — Bir saat evvel götürdüm.
ULVİYE — Umarım, haberi okumamıştır.
HİZMETÇİ — Bilmiyorum, efendim! Ben içeriye girdiğimde yatağında oturuyordu. Eliyle, gazeteyi bırakmamı işaret etti. Ben de iskemlenin üzerine bırakıp çıktım.
ULVİYE — Peki, kızım!
ULVİYE — Demin mutfak katına indiğinde henüz okumamıştı. Ya şimdi okursa?
NEVZAT — Yapacak bir şey yok artık.
ULVİYE — Odasına girip belli etmeden alamaz mıyız gazeteyi?
NEVZAT — O zaman büsbütün şüphelenir.

Aşağıdaki yay ayraç içi ifadelerden hangisi bu metnin herhangi bir yerinde kullanılamaz?

- A) (Hatırlamak için elini çenesinin altında gezdirdikten sonra)
B) (Hüsrev'e tedirgin gözlerle bakar.)
C) (Gözlerini Ulviye'ye dikip bir süre susar.)
D) (Odada ikisi kalmıştır.)
3. Bir kelime oyununda kişilerden, içinde harfler olan kutuları yan yana getirerek anlamlı sözcükler oluşturmaları istenmektedir. Bir kelimedenden yola çıkılarak ikinci bir kelime oluşturulurken şu kurallara uyulacaktır:
- Kutuların yer değiştirmesi zorunludur.
 - Kutulardaki harfler, kendi içinde yer değiştirebilir.

Örnek: **M A N A** → **A N M A**

Bu bilgilere göre aşağıdakilerin hangisindeki kelimeler verilen kurallara uygun oluşturulmuştur?

- A) **Ş E K İ L** → **İ Ş L E K**
- B) **Ü R K E K** → **K Ü R E K**
- C) **P A T İ K** → **T A K İ P**
- D) **K A M E R** → **M E R A K**

4. Bir kişinin, kendi yaşam öyküsünü anlattığı şiirlere “otobiyografik şiir” denir.

Buna göre aşağıdakilerden hangisi otobiyografik şiirdir?

- A) Yeşil, ipek gömleğinin yakası
Büyük zamana düşer
Her şeyin fazlası zararlıdır ya
Fazla şiirden öldü Edip Cansever
- B) Yaş otuz beş! Yolun yarısı eder
Dante gibi ortasındayız ömrün
Delikanlı çağımızdaki cevher
Yalvarmak, yakarmak nafîle bugün
Gözünün yaşına bakmadan gider
- C) Anam Nergiz, babam Hacı
Üç kardeşiz, iki bacı
Şeref der, konuşmam acı
Yumuşaktır huyum benim
Bir doksan bir boyum benim
- D) Adı soyadı
Açılır parantez
Doğduğu yıl, çizgi, öldüğü yıl, bitti
Kapanır parantez
O şimdi kitaplarda bir isim, bir soyadı
Bir parantez içinde doğum, ölüm yılları



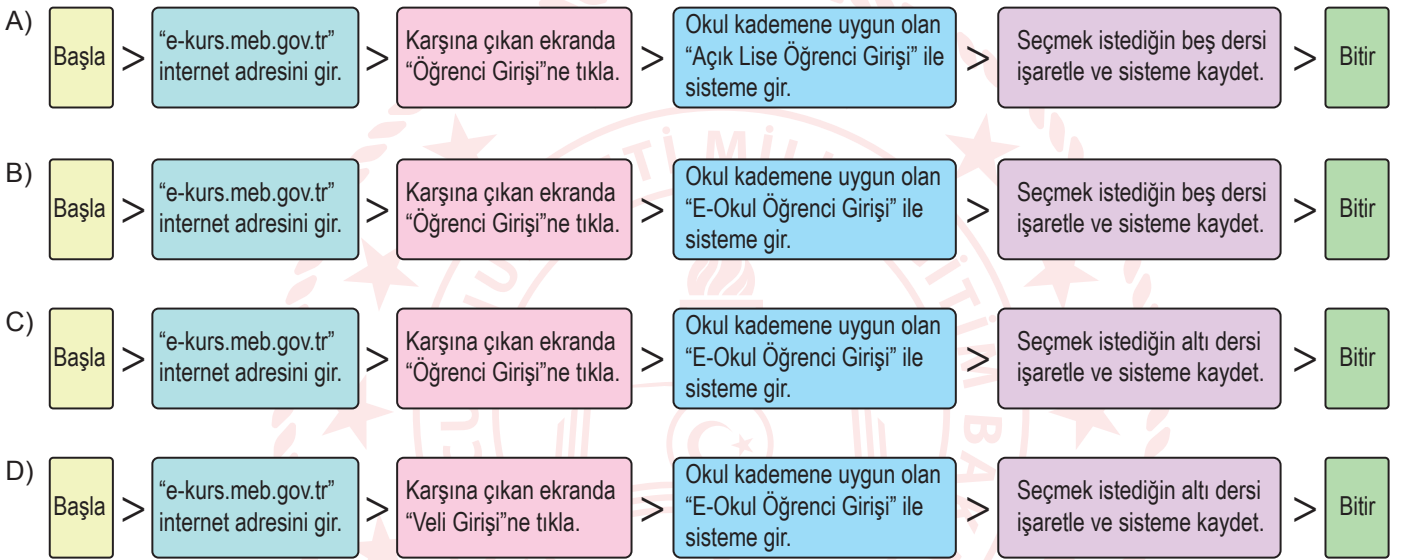
5. Algoritma, sorun çözmek ya da amaca ulaşmak için nasıl bir yol izlenmesi gerektiğinin adım adım tasarlanmasıdır. Algoritmada çözüme ulaşmak için tüm olasılıklar değerlendirilir, doğru ve etkin bir çözüm için komutlarla adımlar tanımlanır. Bu sürecin bir başlangıcı ve bitişi bulunmalıdır.

Bilişim Teknolojileri Öğretmeni Emin Bey, "Destekleme ve Yetiştirme Kursları"na başvuru yapmak isteyen 7. sınıf öğrencileri için bir algoritma hazırlamıştır.

Kurslarla ilgili bilinenler şunlardır:

- Öğrencinin e-okul sistemine kayıtlı olması gerekmektedir.
- Sisteme e-kurs modülü üzerinden "Öğrenci Girişi" sekmesi ile girilir.
- Ortaokulların 5, 6 ve 7. sınıflarındaki öğrenciler en fazla 5 farklı dersten, haftalık 12 saate kadar kurs alabilirler.
- 8. sınıftaki öğrenciler ise en fazla 6 farklı dersten, haftalık 18 saate kadar kurs alabilirler.

Bu bilgilere göre Emin Bey aşağıdaki algoritmalarından hangisini hazırlamış olabilir?



6. Kişinin bazı olay ve durumlar karşısında kararsızlık yaşaması çatışmaya neden olur. Bu durum üç şekilde ortaya çıkabilir:

Yaklaşma-Yaklaşma Çatışması: Birey, yapmak istediği iki şey arasında kararsızlık yaşar. Futbol oynamayı ve konsere gitmeyi seven birinin aynı saatte gerçekleşen bu iki etkinlik arasında kararsızlık yaşaması, bu çatışma türüne örnektir.

Yaklaşma-Kaçınma Çatışması: Birey, bir şeye karşı istek duyar ancak bu istek, bireyin hoşuna gitmeyen bir durumu ortaya çıkarır. Dondurma yemek isteyen birinin, boğazı ağrıdığı için yemekten çekinmesi bu çatışma türüne örnektir.

Kaçınma-Kaçınma Çatışması: Birey, istemediği iki durumdan birini seçmek zorunda kalır. Diş tedavisinden korkan birinin bu ağrıyı çekmek ile doktora gitmek arasında bir seçim yapma durumunda kalması, bu çatışma türüne örnektir.

Aşağıdaki atasözlerinden hangisi bu metinde sözü edilen çatışma türlerinden herhangi biriyle ilgili değildir?

- A) Ya bu deveyi gütmeli ya bu diyardan gitmeli.
B) Gülü seven dikenine katlanır.
C) Kır atın yanında duran ya huyundan ya suyundan...
D) Ne yârden geçilir ne serden.

7. Ünlü sanatçının Türkçeye ilk kez çevrilen eseri kitapçılardaki yerini aldı. Bu kitap hem metni hem desenleri hem de içeriğiyle iyi ki ve nihayet dedirtecek.

Bu parçadaki altı çizili ifadelerde, söz konusu kitapla ilgili vurgulanmak istenen aşağıdakilerin hangisinde sırasıyla verilmiştir?

- A) Yazarın bu tarzda bir kitap yazma konusunda geç kaldığı – Her okurun, kendisinden bir şeyler bulabileceği bir içeriği olduğu
B) Eleştirmenlerden olumlu tepkiler geldiği – Şimdiye kadar bu alanda böyle bir kitap yazılmadığı
C) Yazarın diğer eserlerinden daha iyi olduğu – Ele aldığı konunun daha önce işlenmediği
D) Yazılmasından memnuniyet duyulduğu – Uzun süredir bu nitelikte bir kitabın beklendiği

8. Şiir serüveninin başından itibaren her şeyin şiire konu olabileceği ilkesini benimseyen şair, “- - -” anlayışı çerçevesinde sosyal ilişkilere, tabiata, teknolojiye, tarihe dair meseleleri farklı sanat dallarından taşıyıp getirdiği malzemelerle harmanlayarak her zaman güncel kalabilen eserler verdi.

Bu cümlede boş bırakılan yere aşağıdakilerden hangisi getirilmelidir?

- A) şiir dünyadan ibaret
B) sanat şiirden ibaret
C) hayat şiirden ibaret
D) şiir insandan ibaret

9. 2013 yılının Şubat ayında kütlelerinin yaklaşık 12 bin ton olduğu düşünülen büyükçe bir meteor, atmosfere girdi ve orada parçalandı. Meteorun parçaları Rusya'nın Çelyabinsk kenti yakınlarına düştü. Çok sayıda bina zarar gördü ve yaralananlar oldu. Uzmanlar bu büyüklükteki bir meteorun en son 1908 yılında yeryüzüne düştüğünü belirtiyor.

Bu parçada aşağıdaki yazım kurallarından hangisine örnek olabilecek bir kullanım yoktur?

- A) Ses düşmesine uğrayan birleşik kelimeler bitişik yazılır.
B) Özel adlara getirilen çekim ekleri kesme işaretiyle ayrılır.
C) Belirli bir tarih bildiren ay ve gün adları büyük harfle başlar.
D) Özel ada dâhil olmayıp tamlama kuran şehir, il, ilçe, belde, köy vb. sözcükler küçük harfle başlar.



10. Fiil kökünden türediği ve olumsuzu, fiiller gibi "-ma /-me" eki ile yapılabildiği hâlde kip eki alamayan sözcüklere "filimsi" denir.

Buna göre,

- I. Bağışlar sayesinde bir kütüphane dolusu kitap birikmiş.
II. Suyun birikmesi birkaç saati bulacak gibi görünüyor.
III. Tarih ve arkeoloji alanlarında büyük birikim sahibidir.

cümlelerinin hangilerindeki altı çizili sözcükler filimsi değildir?

- A) Yalnız I. B) Yalnız II. C) I ve III. D) II ve III.

T.C. İnkılap Tarihi ve Atatürkçülük Örnek Soruları

1. 1876'da ilan edilen anayasa (Kanun-i Esasi) ile Türk tarihinde yeni bir döneme geçilmiş oldu. Devlet, artık padişahın kişisel isteklerine göre değil anayasadaki kurallara göre yönetilecektir. Anayasada kişiler arası eşitlik, mal ve konut dokunulmazlığı, eğitim hakkı, vicdan hürriyeti, basın hürriyeti ve mahkemelerin bağımsızlığı gibi kişi hak ve hürriyetlerine yer verilmiştir.

Buna göre Kanun-i Esasi'nin ilanı ile aşağıdakilerden hangisinin amaçlandığı söylenemez?

- A) Temel hakları korumak
- B) Anayasal düzene geçmek
- C) Yargı bağımsızlığını sağlamak
- D) Padişah otoritesini güçlendirmek



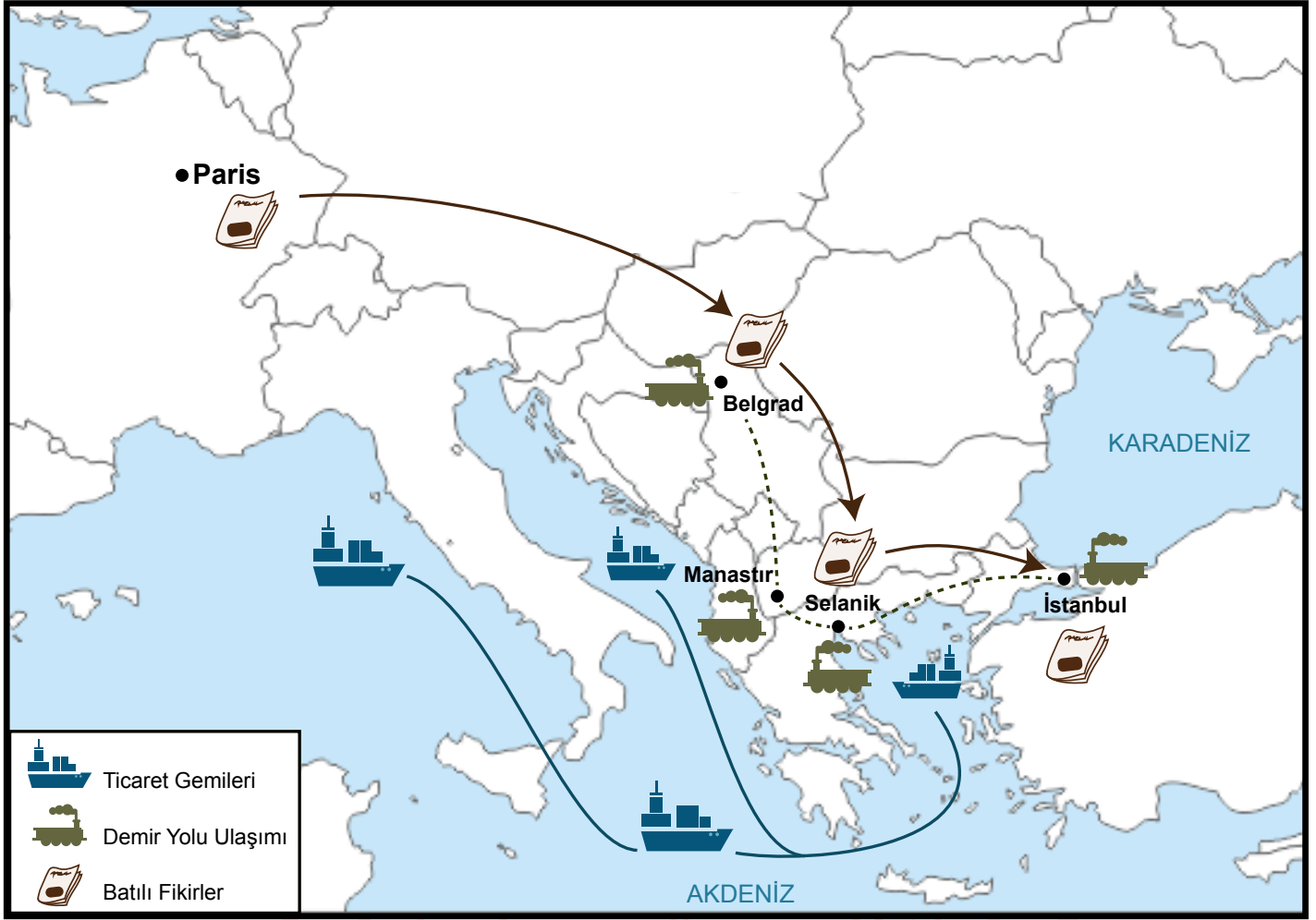
2. Mustafa Kemal'in Vatan ve Hürriyet Cemiyeti'nin Selanik şubesinin açılışında yaptığı konuşma:

“Arkadaşlar, bu gece burada sizleri toplamaktaki amacım şudur: Memleketin yaşadığı tehlikeli anları size söylemeye gerek görmüyorum. Bunu hepiniz anlarsınız. Bu talihsiz memlekete karşı önemli görevlerimiz vardır. Onu kurtarmak tek hedefimizdir. Bugün Makedonya'yı ve bütün Rumeli topraklarını vatan bütünlüğünden ayırmak istiyorlar... Memlekete yabancı etkisi ve egemenliği kısmen ve fiilen girmiştir. Şimdilik gizli çalışmak ve teşkilatı şekillendirmek mecburidir. Sizden fedakârlıklar bekliyorum. Milleti hâkim kılmak, özetle vatani kurtarmak için sizi göreve çağırıyorum.”

Bu konuşmadan hareketle Mustafa Kemal ile ilgili aşağıdakilerden hangisine ulaşamaz?

- A) Liderlik vasfına sahip olduğuna
- B) Milli bir ordu kurmayı amaçladığına
- C) Bağımsızlık duygusu ile hareket ettiğine
- D) Millî egemenlik anlayışını benimsediğine

3. Aşağıdaki haritada Mustafa Kemal'in doğduğu ve ilk çocukluk yıllarının geçtiği Selanik şehrine ait bazı bilgiler verilmiştir.



Bu haritaya göre Selanik ile ilgili,

- I. Ticaretin en yoğun yaşandığı şehirdir.
- II. Kültürel gelişmeler yayılma imkânı bulmuştur.
- III. Farklı dinlere mensup insanların kaynaştığı bir şehirdir.

çıkarımlarından hangilerine ulaşılabilir?

- A) Yalnız II. B) Yalnız III. C) I ve III. D) I, II ve III.

4. Mustafa Kemal, askerî ateşelik görevi nedeniyle bir süre Bulgaristan'ın Sofya kentinde bulunmuştur. Bu görevi sırasında,
- Bulgar parlamentosunu yakından takip etmiştir.
 - Bulgaristan'da azınlıkta kalan Türklerle yakın ilişkiler kurmuş ve Türkçe yayımlanan gazetelere destek vermiştir.
 - Diğer devletlerin elçileriyle görüş alışverişinde bulunmuştur.
 - İstanbul'dan getirttiği gazete ve dergileri özenle takip etmiştir.

Buna göre Mustafa Kemal ile ilgili aşağıdakilerden hangisi söylenemez?

- A) Milliyetçi bir kişiliğe sahiptir.
B) Ülkesindeki ve dünyadaki gelişmeleri takip etmiştir.
C) Bulgaristan'daki Türk azınlığın sorunlarına çözüm getirmiştir.
D) Demokratik yönetim sistemleri hakkında fikir sahibi olmuştur.



5. Aşağıda Mondros Ateşkes Antlaşması'nın bazı maddeleri verilmiştir:
- Sınırların korunması ve iç güvenliğin sağlanması için gerekli askerlerin dışında Osmanlı ordusu terhis edilecektir.
 - İtilaf Devletleri, güvenliklerini tehdit eden stratejik noktaları işgal edebilecektir.
 - Boğazlar açık olacak ve İtilaf Devletleri tarafından işgal edilecektir.
 - Tüm telsiz ve telgraf hatlarının kontrolü, Toros tünelleri ve bütün demiryollarının denetimi İtilaf Devletlerine bırakılacaktır.

Bu maddelerden hareketle aşağıdakilerden hangisinin amaçlandığı söylenemez?

- A) Anadolu'da çıkabilecek azınlık isyanlarının engellenmesi
B) Haberleşme ve ulaşımın kontrol altına alınması
C) Anadolu ve Rumeli bağlantısının kesilmesi
D) Osmanlı Devleti'nin savunmasız bırakılması

Din Kültürü ve Ahlak Bilgisi Örnek Soruları

1. Yapılan araştırmalar, meyve ve sebzelerin besin değerlerinin geçmişten günümüze önemli bir düşüş gösterdiğini ortaya koymaktadır. Kimyasal atıklar sebebiyle toprağın verimsizleşmesi, tarım ilaçlarının bilinçsiz kullanımı, çabuk olgunlaşmasını sağlamak amacıyla sebze ve meyvelerde çeşitli hormonların kullanılması bu düşüşün nedenleri arasında sayılabilir. Bu durum, insanlığın bugünü ve yarını için büyük risk oluşturmaktadır.

Aşağıdaki ayetlerden hangisinin mesajı bu metinde anlatılanlarla örtüşmektedir?

- A) "Allah'ın size helal ve temiz olarak verdiği rızıklardan yiyin ve kendisine inanmakta olduğunuz Allah'a karşı gelmekten sakının."
(Mâide suresi, 88. ayet)
- B) "Biz gökleri, yeri ve ikisi arasındakileri ancak hak ile ve belirli bir süre için yarattık..."
(Ahkâf suresi 3. ayet)
- C) "İnsanların kendi işledikleri (kötülükler) sebebiyle karada ve denizde düzen bozuldu. Dönmeleri için Allah, yaptıklarının bazı (kötü) sonuçlarını (dünyada) onlara tattıracaktır."
(Rûm suresi, 41. ayet)
- D) "Size tohumlar, bitkiler, sarmaş dolaş olmuş bağlar, bahçeler yetiştirmeniz için yağmur yüklü bulutlardan bol yağmur indirdik."
(Nebe' suresi, 14-16. ayetler)

2. İnsan; rızıkını kazanmak için, Allah'ın koyduğu yasalar çerçevesinde çalışıp çabalar. Karşısına çıkan imkânları değerlendirir, tercihlerde bulunur ve kendine uygun işi seçer. Allah da yaptığı işin gereklerini yerine getiren kişiye rızıkını verir.

Bu metinde anlatılanlar aşağıdakilerden hangisiyle ilişkilendirilemez?

- A) Kader
B) Ecel
C) İrade
D) Emek

3. • “Kim iyi bir iş yaparsa kendi lehinedir. Kim de kötülük yaparsa kendi aleyhinedir...”
(Kehf suresi, 29. ayet)
- “Andolsun, size içinde sizin için öğüt bulunan bir kitap indirdik. Hâlâ aklınızı kullanmayacak mısınız?”
(Enbiyâ suresi, 10. ayet)

Bu ayetlerden insan ile ilgili;

- I. Tercihlerinde özgürdür.
II. Eylemlerinden sorumludur.
III. Düşünebilme yeteneğine sahiptir.

yargılarından hangilerine ulaşılabilir?

- A) Yalnız I.
B) I ve II.
C) II ve III.
D) I, II ve III.

4. “Allah, kendisinden başka hiçbir ilah olmayandır; diridir, her şeyin varlığı O’na bağlı ve dayalıdır. Ne uykusu gelir ne de uyur. Göklerde ve yerde ne varsa hepsi O’nundur. O’nun izni olmadıkça katında hiçbir kimse şefaath edemez. Onların önlerinde ve arkalarında olanları O bilir. O’nun bildirdiklerinin dışında insanlar O’nun ilminden hiçbir şeyi tam olarak bilemezler...”

(Bakara suresi, 255. ayet)

Ayet’el-Kürsi’nin Türkçe mealindeki altı çizili bölümler Allah’ın isimleriyle eşleştirildiğinde aşağıdakilerden hangisi dışta kalır?

- A) Rezzak
B) Hayy
C) Alîm
D) Kayyum

5. Ahmet Bey, tarımsal üretimi etkileyen faktörleri dikkate alarak; tarımın bilinçli yapılması konusunda çevresindeki çiftçilere örnek oldu. O, üretime başlamadan önce toprak analizi yaptırdı. Çıkan sonuçlara göre, tarlalarında hangi sebzeleri yetiştirmenin daha uygun olacağı konusunda uzmanlara danıştı. Aldığı tavsiyelerden hareketle tarlalarına uygun sebzeleri ekti ve gerekli bakımları yaptı. Bol ve kaliteli ürün alabilmek için Allah'a dua etti. Hasat mevsimi geldiğinde hem verim hem de kalite açısından iyi bir sonuç elde etti.

Metinde anlatılanlar aşağıdaki kavramlardan hangisi ile ilişkilendirilemez?

- A) Rızık
- B) Emek
- C) Şükür
- D) Tevekkül



İngilizce Örnek Soruları

Read the conversation and complete the sentence.

1.



According to the conversation, Sophie - - - - .

- A) tells Nathalie what she is doing now
- B) makes an excuse for not going there
- C) cannot go there because she is busy
- D) asks for some details about the event

Read the information about the personal characteristics of Rosa and answer the question.

2.



Which of the following IS NOT related to Rosa's personality?

- A) She always says "please" and tells the truth.
- B) She buys presents for her friends.
- C) She likes doing extreme sports.
- D) She never changes her mind.

Read Arthur's plans and the conversation. Answer the question.

3.

MONDAY	TUESDAY	WEDNESDAY	THURSDAY
(6 pm - 8 pm)	(7 pm - 9 pm)	(5 pm - 8 pm)	(4 pm - 6 pm)
Going to the tennis course	Attending John's party	Taking care of my brother	Training for the tournament

Blake : We are planning to gather on Monday. Will you come?

Arthur : What time?

Blake : At 4 pm.

Arthur : - - - -.

Which of the following completes the conversation?

- A) It is awesome but I will be at John's party.
- B) I'd love to but I have to leave before six.
- C) That sounds great but I have to train for the tournament.
- D) I am sorry but I am taking care of my brother at that time.

Look at the poster below and answer the question.

4.



Which of the following DOES NOT have an answer in the poster?

- A) How long is the trip?
- B) Is there anything to eat?
- C) How can we learn details?
- D) Which equipment do we need?

Read the text and answer the question.

5. The table below shows Helena and Tracy's likes. They want to attend a course together.

HELENA	TRACY
Playing the guitar	Preparing traditional dishes
Fishing	Taking photos
Cooking	Swimming

Which of the following is appropriate for both of them?

A)

HUNT THE BIGGEST

B)

IMPROVE MUSICAL SKILLS

C)

LEARNERS IN THE KITCHEN

D)

ART OF CAMERA

CEVAP ANAHTARI

TÜRKÇE

1. B
2. B
3. D
4. C
5. B
6. C
7. D
8. A
9. A
10. C

T.C. İNKILAP TARİHİ VE ATATÜRKÇÜLÜK

1. D
2. B
3. A
4. C
5. A

DİN KÜLTÜRÜ VE AHLAK BİLGİSİ

1. C
2. B
3. D
4. A
5. C

İNGİLİZCE

1. D
2. D
3. B
4. A
5. C